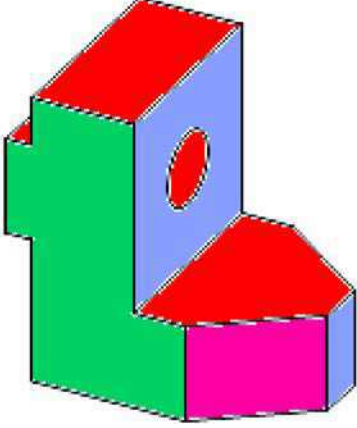
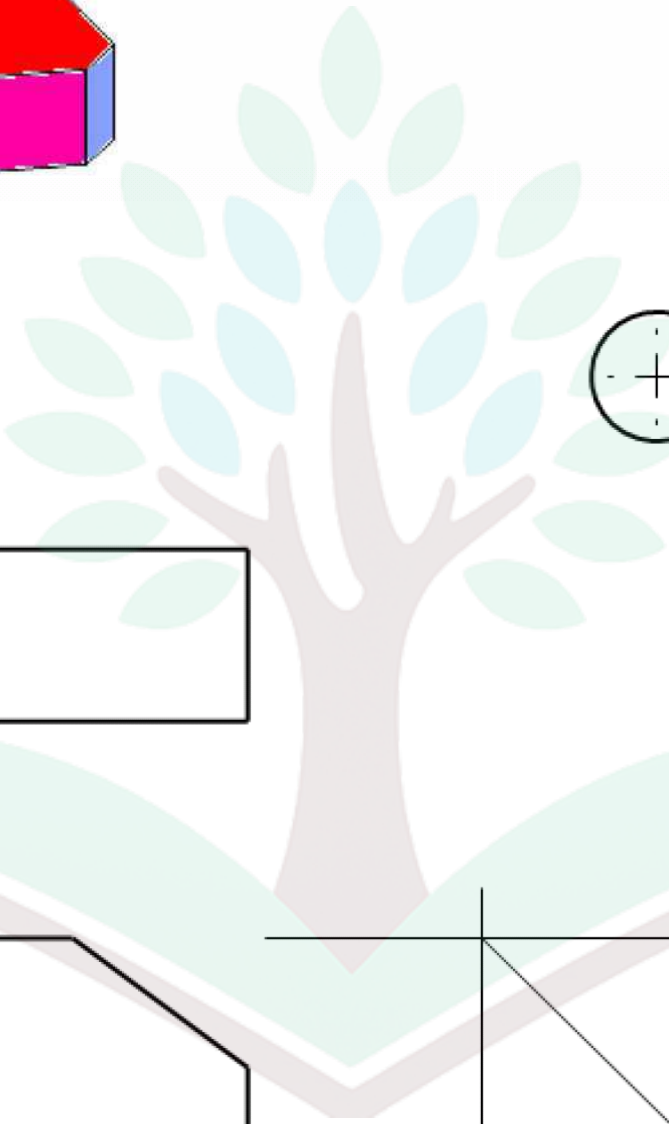

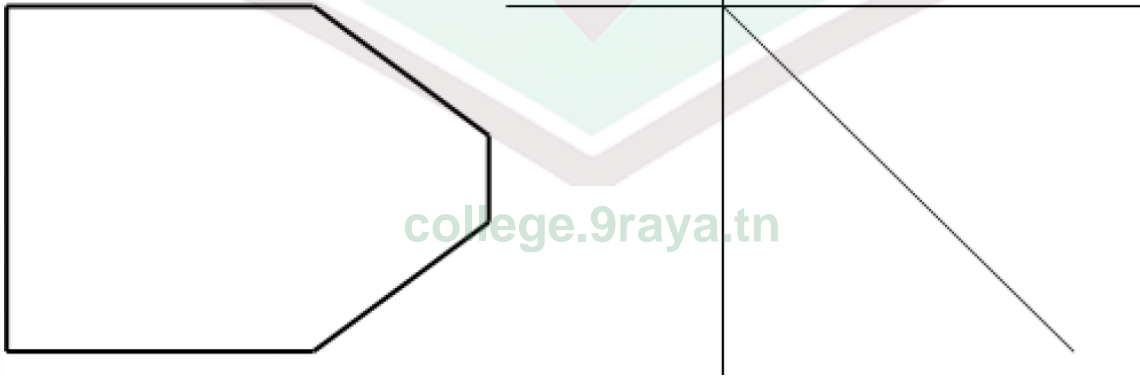
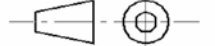
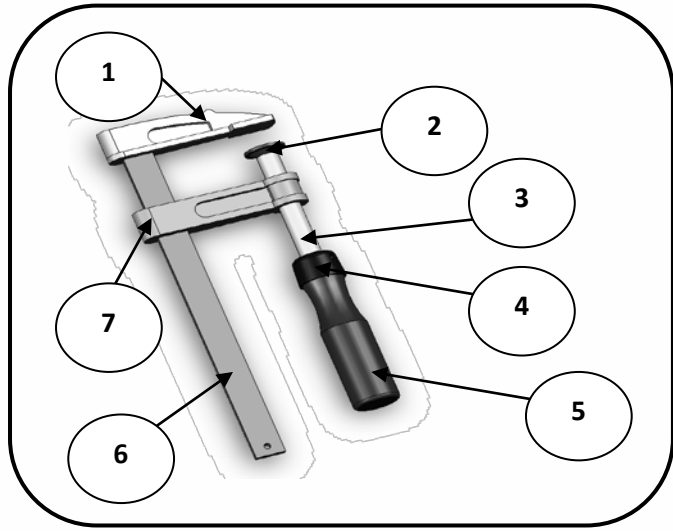


العدد المسند	السنة الدراسية: 2010-2011 الاسم: ..... اللقب: .....	فرض مراقبة عدد 3		المدرسة الإعدادية منزل النور
		في مادة التربية التكنولوجية		الأستاذ: صالح عتيق
		الضارب: 1	المدة: 30 دق	المستوى: 8 أساسي .....

	4	3	2	1
A	<p><b>التمرين 1</b> أكمل رسم المساقط التالية معتمدا على الرسم المنظوري للقطعة : (الاجابة 7=14X0.5 نقاط)</p> 			
B				
C				
D				
E	<p>college.9raya.tn</p>			
F	الاسم :		السلم :	
				
	المدرسة الإعدادية :			
	4	3	2	1

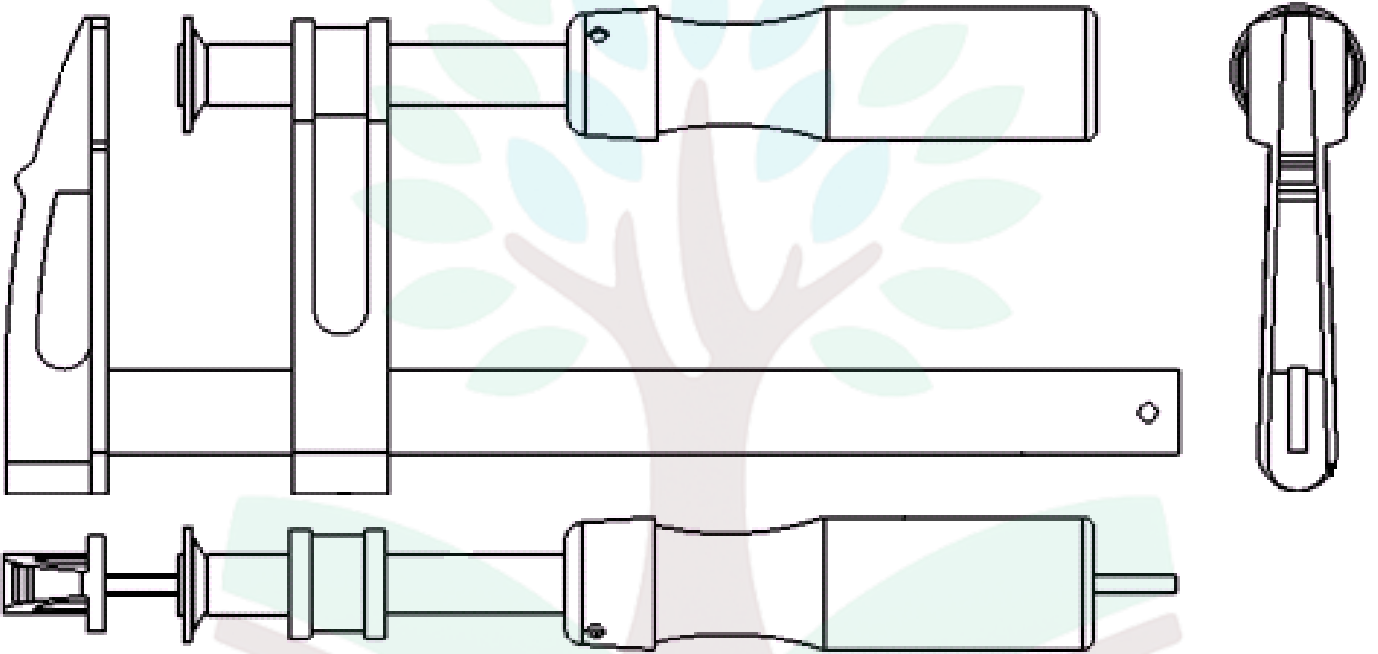


الرسم عدد 1

**التمرين 2:**  
أ - يمثل الرسم التالي ( الرسم عدد 1 ) رسم ثلاثي الأبعاد  
لمثبت القطع (الاجابة =13X0.5 نقاط 6.5)

السؤال :  
لون على مختلف المساقط للرسم الشامل :

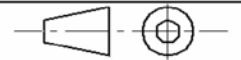
- القطعة رقم 1 باللون الأزرق
- القطعة رقم 2 باللون الأحمر
- القطعة رقم 3 باللون الأخضر
- القطعة رقم 6 باللون الأسود
- القطعة رقم 5 باللون الأحمر



college.9raya.tn

الاسم :

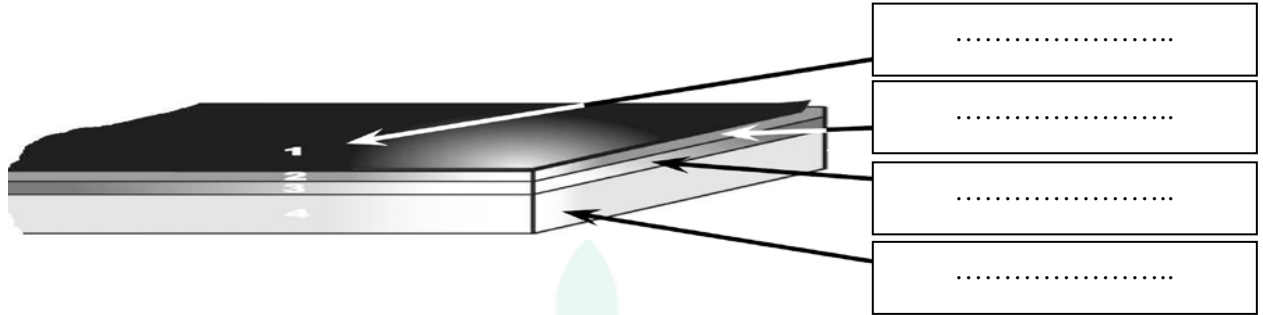
الاسم :



المدرسة الإعدادية :

### التمرين 3 :

يمثل الرسم التالي لوحة خاصة لانجاز الدارة المطبوعة : (الاجابة 4X0.5=2 نقاط)  
أ- السؤال : أكتب في كل خانة اسم الطبقة المناسبة



ب - رتب مراحل انجاز الدارة المطبوعة بكتابة رقم المرحلة المناسبة جانب كل خانة : (الاجابة 9X0.5=4.5 نقاط)

الغسل و التنظيف	...	تثبيت المكونات بالدارة	...
التشميس	...	النقاشة	...
القصدرة	...	الغسل	...
الثقب	...	تهيئة اللوحة	...
المراقبة	...	انجاز مخطط الدارة المطبوعة	...
		الكشف	...

college.9raya.tn