

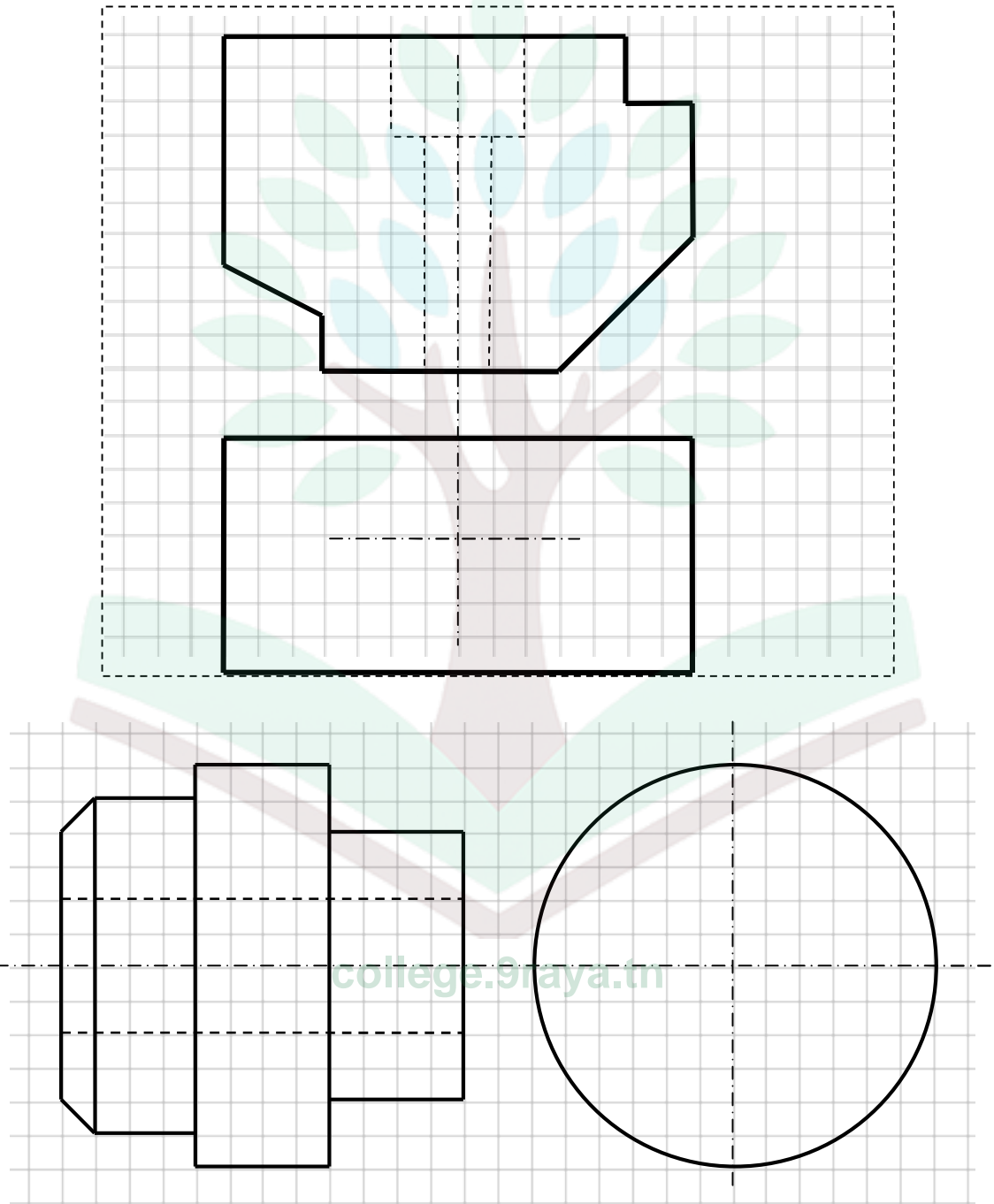
8 أساسي	مادّة التربية التكنولوجيّة		إعدادية البحائر 2011-2010
	فرض تألّيفي عدد 3		الأستاذة : بن سعيد
	الرقم: .....	الاسم واللقب: .....	
20	التوقيت: 1 س	الضّارب: 1	الفوج: .....
	القسم: .....		

الأوراق المقدّمة : 1/3، 2/3 و 3/3

التمرين الأوّل: التعبير البياني (13 نقاط)

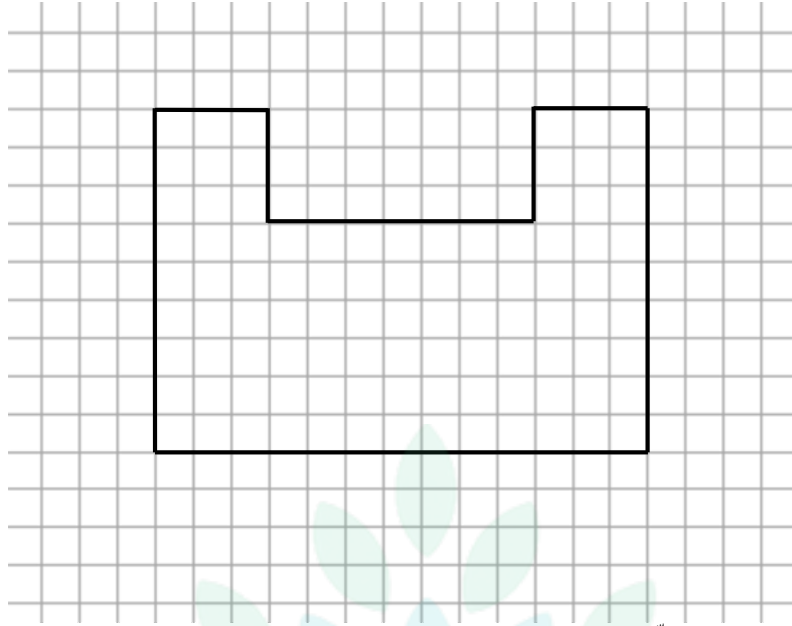
(09 نقاط)

1. أتم رسم مساقط القطع التّالية بما يناسب :



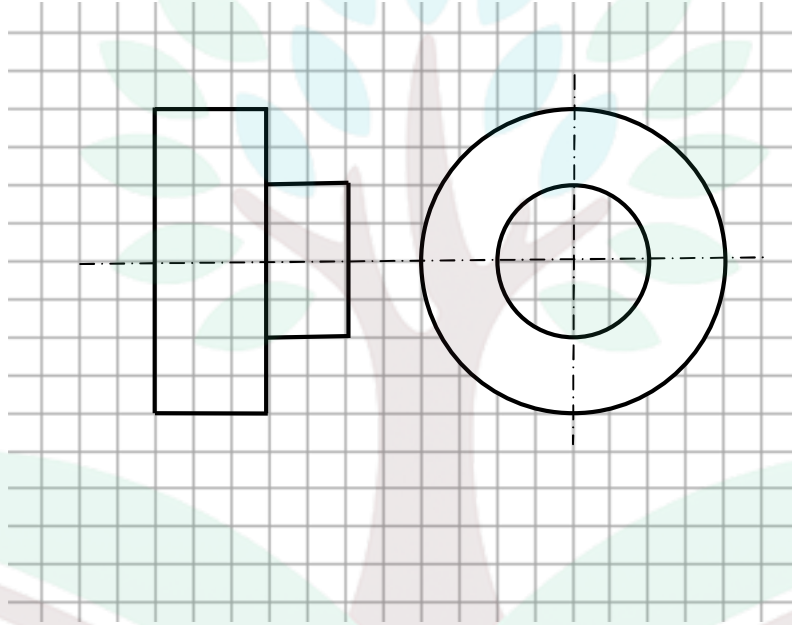
(02 نقاط)

2. قم بترقيم القطعة الموشورية التّالية:



(02 نقاط)

3. قم بتزقيم القطعة الموشورية التالية:



التمرين الثاني: تقنيات الانجاز (07 نقاط)

(02 نقاط)

1. ضع علامة أمام القواعد الخاصة بعملية ثني الورق البلاستيكي :

التأكد من التثبيت الجيد للمثقاب	عدم لمس المقارم	لا أمسك المثقاب باليد اثناء الثقب	يجب التثبيت من محيط الآلة
أثبتت من عدم وجود المفتاح بالتمسك	قطع التيار الكهربائي بعد انجاز عملية ثني	أشد القطعة بالملزمة	الانتباه من وضع اليدين عند القيام بعملية ثني

(05 نقاط)

2. رتب مراحل عملية ثني الورق البلاستيكي :

	<p>أختار موقع الثني وأثبت القطعة على الآلة بوضعها تحت المضغط</p>	
	<p>أرجع ذراع التشغيل الى مكانه</p>	
	<p>عند انتهاء التوقيت المخصّص للتسخين أدفع ذراع التشغيل لثني القطعة و أنتظر بعض الثواني</p>	
	<p>أشغل الآلة</p>	
	<p>أحدّد الفترة اللازمة لتليين موضع الثني</p>	

college.9raya.tn

