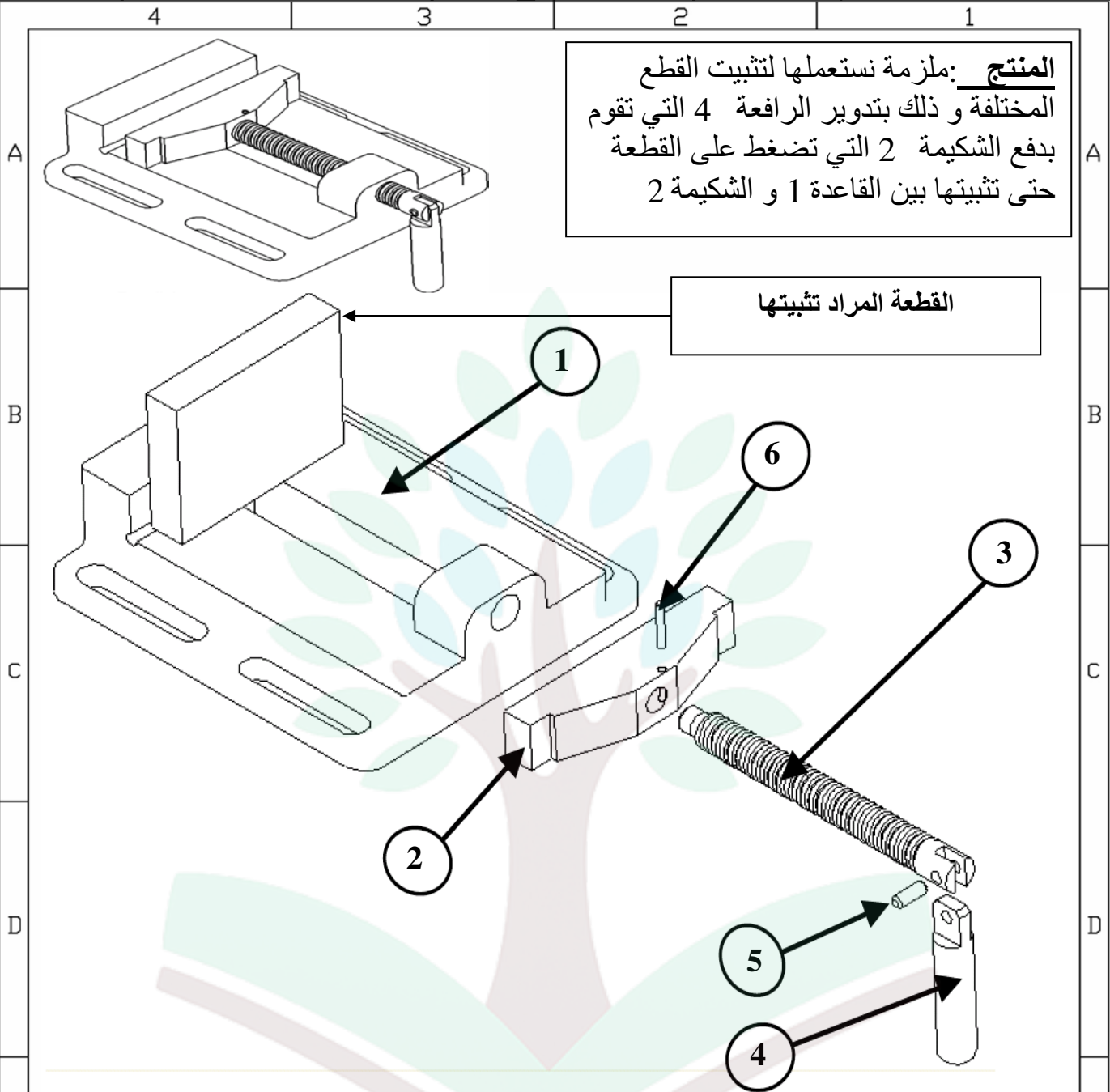


العدد المسند	السنة الدراسية: 2010-2011 الاسم: ..... اللقب: .....	فرض مراقبة عدد 3 فى مادة التربية التكنولوجية	المدرسة الإعدادية منزل النور الأستاذ: صالح عتيق
		الضارب: 1 المدة: 30 دق الرقم: .....	المستوى: 8 أساسي .....

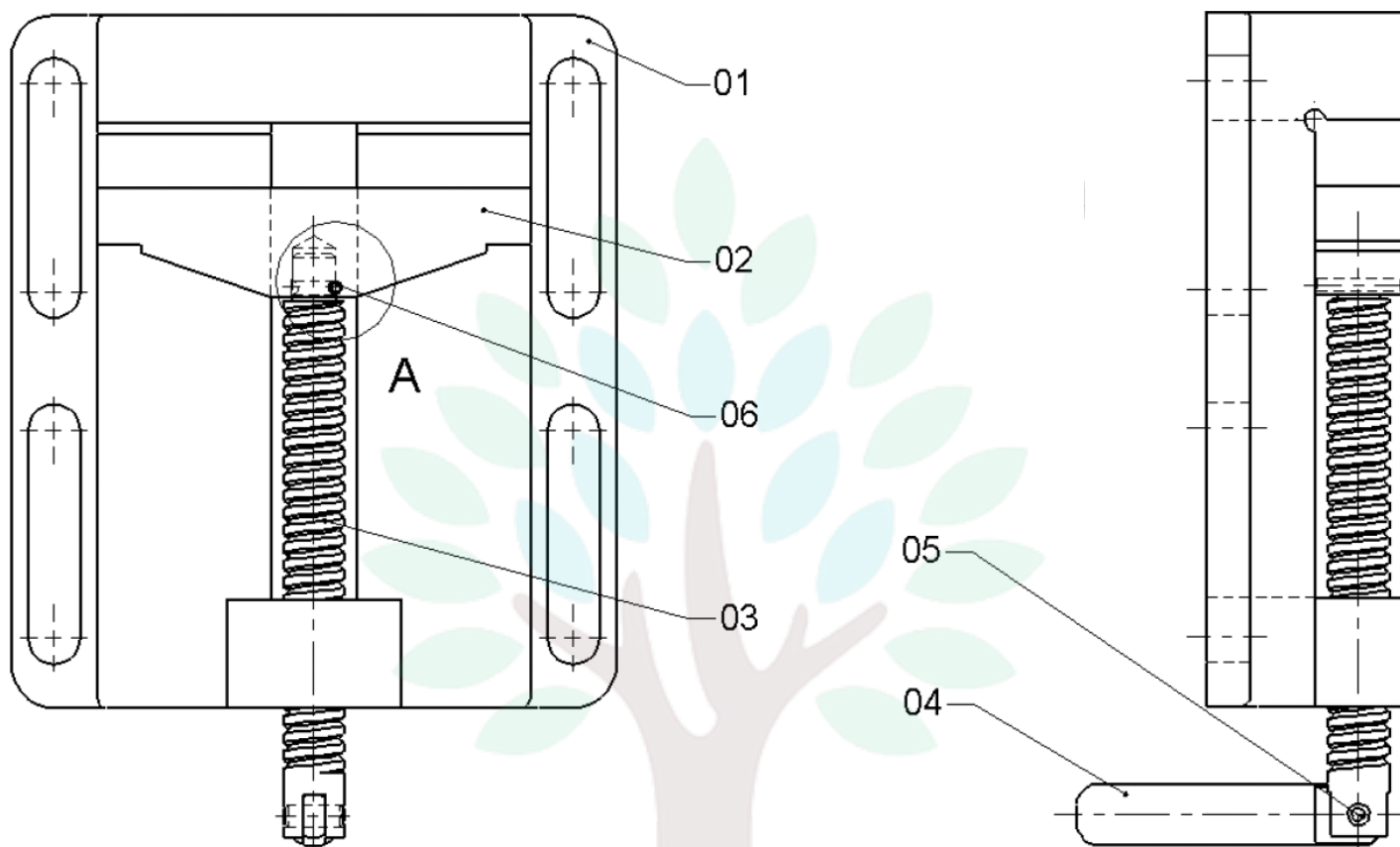


6	2	اصبع اسطواني	فولاذ	
5	1	محور	فولاذ	
4	1	رافعة	فولاذ	
3	2	برغي	فولاذ	
2	1	شكامة	فولاذ	
1	1	قاعدة	فولاذ	
الرقم	العدد	التسمية	المادة	ملاحظات
الاسم :	الاسم :			
المدرسة الإعدادية :				

## التمرين 1 :

أتأمل الرسم المنظوري و الرسم المفكك في الصفحة 1 ثم أجب عن الأسئلة التالية:  
السؤال 1: لون على المسقط التالي (10 نقاط)

- القطعة 1 بالأزرق
- القطعة 2 بالأخضر
- القطعة 3 بالأصفر
- القطعة 4 بالأحمر
- القطعة 5 بالرمادي

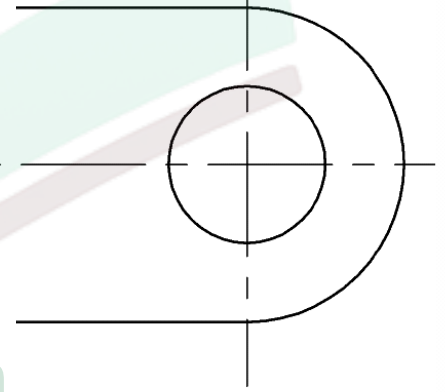
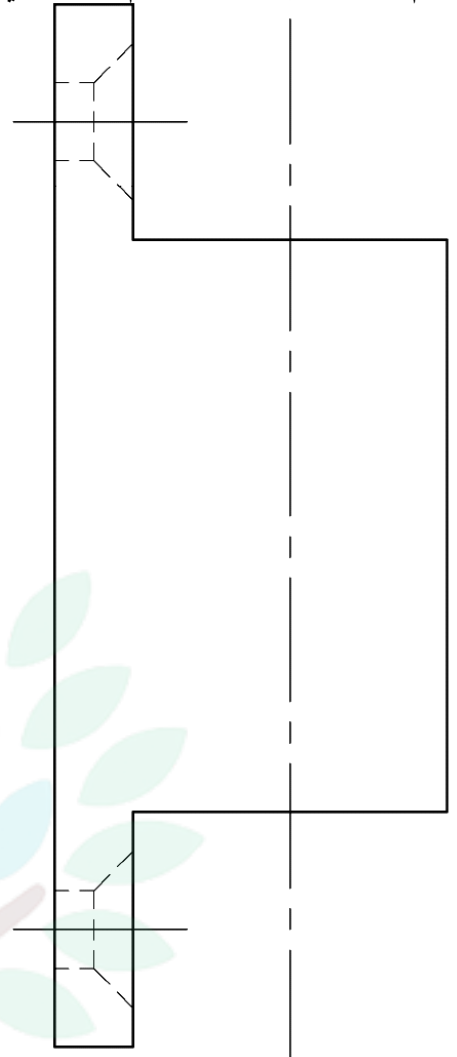
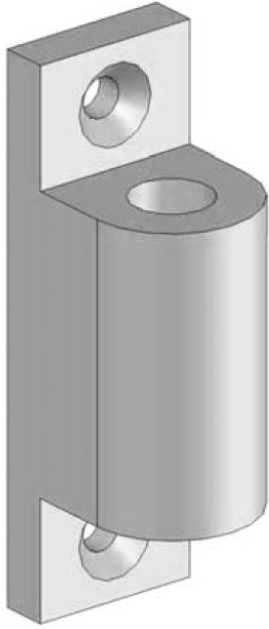


التمرين 2 : رتب مراحل انجاز الدارة المطبوعة بكتابة رقم المرحلة المناسبة جانب كل خانة : (الاجابة 9X0.5=4.5 نقاط)

الغسل و التنظيف	...	تثبيت المكونات بالدارة	...
التشخيص	...	النقاشة	...
القصدرة	...	الغسل	...
الثقب	...	تهينة اللوحة	...
المراقبة	...	انجاز مخطط الدارة المطبوعة	...
		الكشف	...



التمرين 3 : (6 نقاط)  
أتمم رسم المساقط بالاعتماد الرسم المنظوري للقطعة يسار المساقط :



college.9raya.tn

	البلاستيك	جسم	1	2
ملاحظة	المادة	تسمية	العدد	رقم
مفصلة باب		الاسم :	السلم :	
المدرسة الإعدادية :				