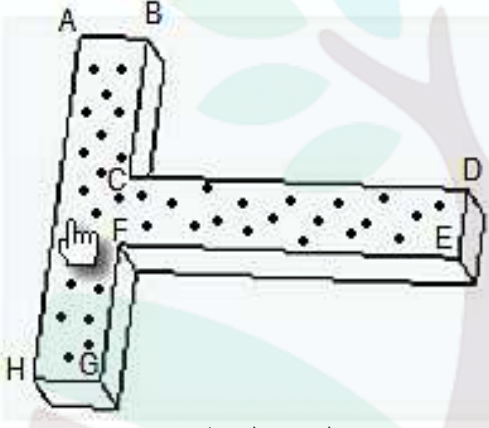

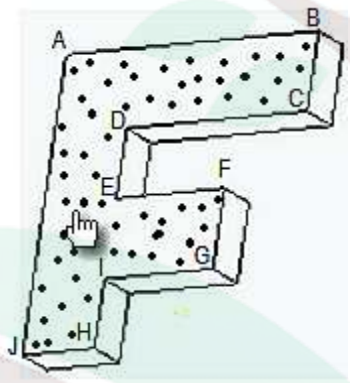
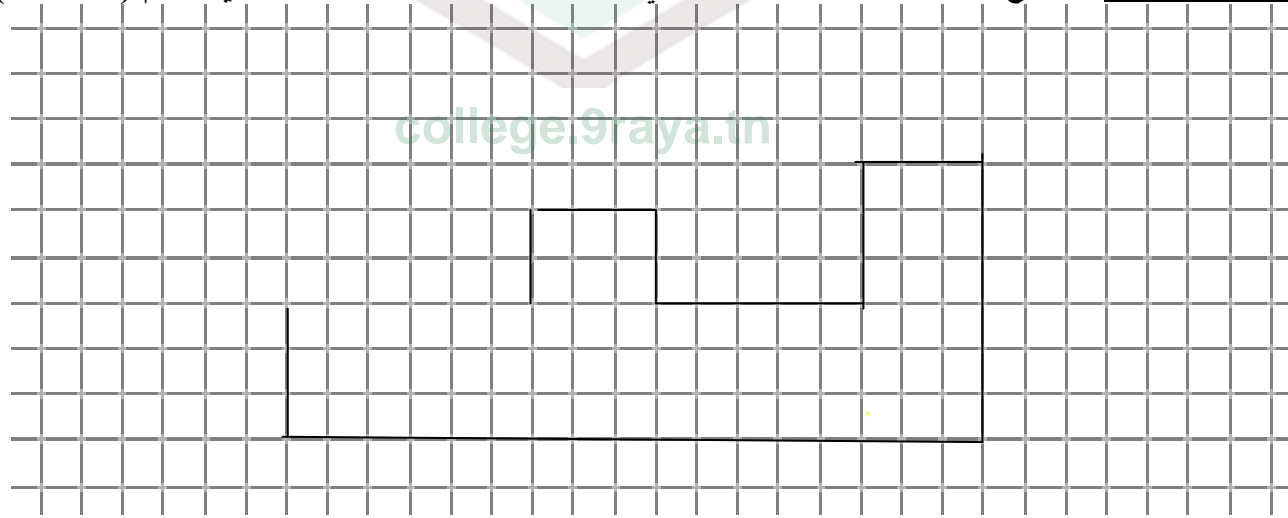


الاسم:..... اللقب:..... الرقم:.....القسم:7 أ.....	اختبار كتابي في مادة التربية التكنولوجية 30 أفريل 2012	المدرسة الإعدادية محمود المسعدي سببية
العدد: 20/.....		الإعداد: اساتذة التربية التكنولوجية

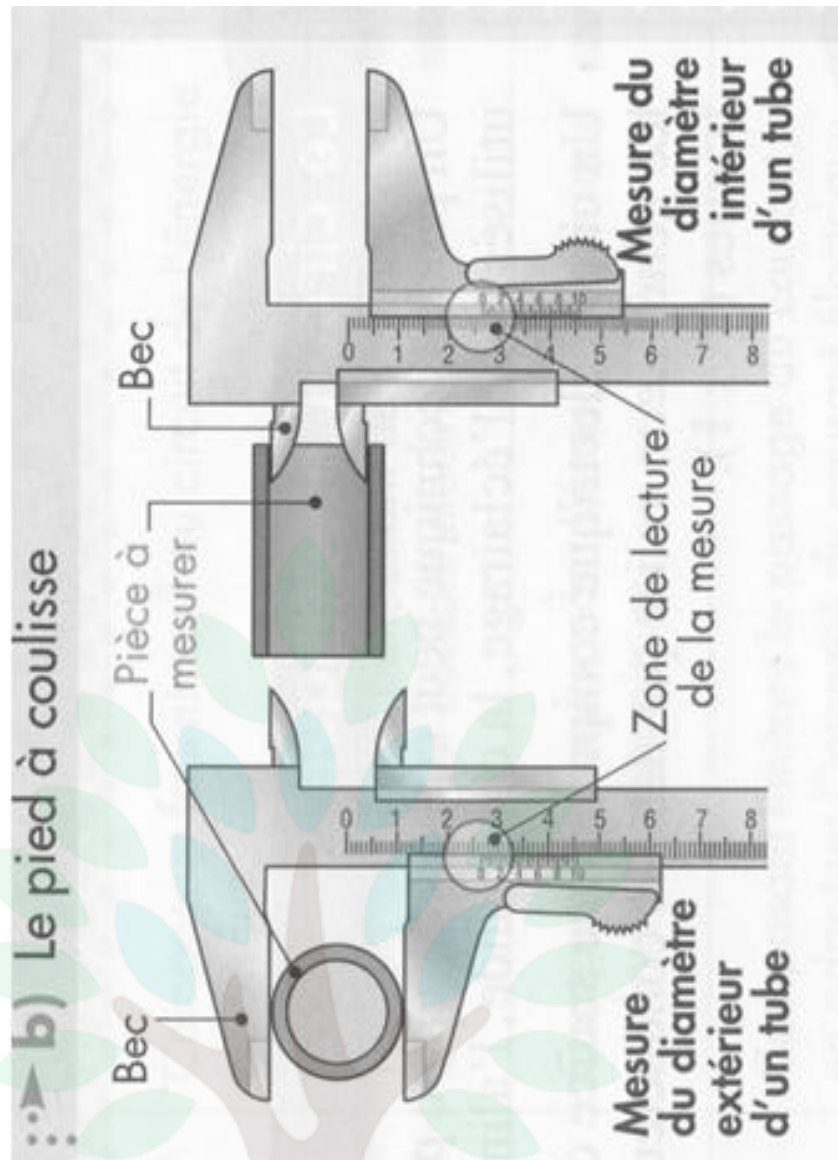
** الجزء الأول " استعمال القدم الزالقي " :		
03	3 - لوّن المسطرة فقط بقلم تلوين. 4 - إستخرج البعد المناسب في الوضعية التالية مستعملا وحدتان (مم/صم)	صم..... مم.....
03	3 - لوّن المسطرة فقط بقلم تلوين. 4 - إستخرج البعد المناسب في الوضعية التالية مستعملا وحدتان (مم/صم)	صم..... مم.....
02	الجزء الثاني: رسم ثلاثي الابعاد لمسطرة : 1- لون الوجه اليميني على الرسم المنظوري. 2- ماهو إتجاه النظر المستعمل في هذا الرسم؟ 3- أعد إنجاز رسم ثلاثي الابعاد على الشبكة حسب المعطيات التالية: * وجه أمامي ABCDEFGH * يساري علوي (↖) * 45° * K= 0.5 * السلم 1:1	 <p>الرسم المنظوري</p>
04	ملاحظة: ** لقد تم إنجاز جزء من الوجه الامامي. ** طول الخطوط المائلة يساوي 20مم (4 مربعات)	
04		
02	نظافة الرسم و الورقة	



الاسم:..... اللقب:..... الرقم:.....القسم:7 أ.....	اختبار كتابي في مادة التربية التكنولوجية 30 أفريل 2012	المدرسة الإعدادية محمود المسعدي سببية
العدد: 20/.....	الإعداد: اساتذة التربية التكنولوجية	

** الجزء الأول " استعمال القدم الزالقي":		
03	5 - لون المسطرة فقط بقلم تلوين. 6 - إستخرج البعد المناسب في الوضعية التالية مستعملا وحدتان (مم/صم)	صم..... مم.....
03	5 - لون المسطرة فقط بقلم تلوين. 6 - إستخرج البعد المناسب في الوضعية التالية مستعملا وحدتان (مم/صم)	صم..... مم.....
02	 <p>الرسم المنظوري</p>	الجزء الثاني: رسم ثلاثي الابعاد لقطعة مصنعة : 1- لون الوجه اليميني على الرسم المنظوري. 2- ماهو إتجاه النظر المستعمل في هذا الرسم؟ 3- أعد إنجاز رسم ثلاثي الابعاد على الشبكة حسب المعطيات التالية: * وجه أمامي ABCDEFGHIJ * يساري علوي (↖) * 45° * K= 0.5 * السلم 1:1
ملاحظة: ** لقد وقع إنجاز جزء من الوجه الامامي. ** طول الخطوط المائلة يساوي 20 مم (4 مربعات)		
04		
04		
02	نظافة الرسم و الورقة	





college.9raya.tn



college.9raya.tn