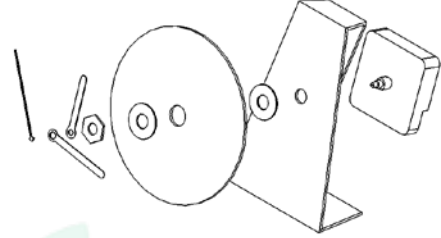
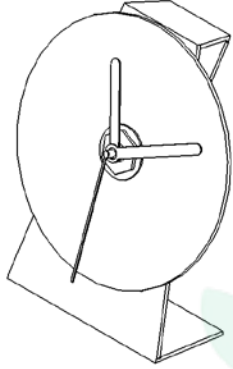


التمرين الأول :

1 (أنمّل الرسوم التقنية التالية و أحدد نوعها .



2 (أذكر تعريف جدول البيانات.

التمرين الثاني :

1 (كم هي عدد المقاسات المستعملة في الرسم التقني ؟

2 (ما هي هذه المقاسات ؟

3 (أحدد أبعاد المقاس A 3 الطول = العرض =

التمرين الثالث :

حدد نوع السلم:

* سلم 1 : 5 هو سلم

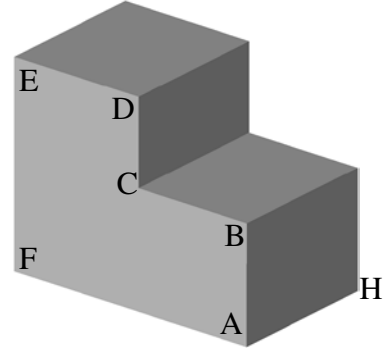
* سلم 1 : 3 هو سلم

التمرين الرابع :

أنمّل الجدول التالي و ذلك برسم الخط .

اسم الخط	رسم الخط
خط متقطع رقيق	
خط مزدوج رقيق	

التمرين الخامس : لنعتبر القطعة التالي .



$$\begin{aligned} AB &= 30 \text{ مم} & BC &= 25 \text{ مم} \\ CD &= 30 \text{ مم} & DE &= 35 \text{ مم} \\ AF &= 60 \text{ مم} & AH &= 50 \text{ مم} \end{aligned}$$

أنجز الرسم الثلاثي الأبعاد لهذه القطعة بالاعتماد على المعطيات التالية :

الوجه الأمامي : A B C D E F

أتجاه النظر

عامل الاستهراب = 0.7

زاوية الاستهراب = 60°

