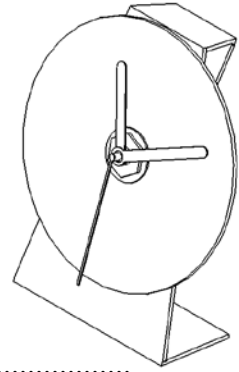
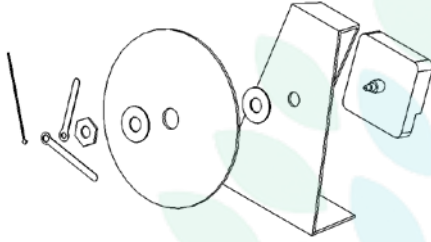


### التمرين الأول :

1) أذكر أنواع الرسم التقني.

.....\*  
.....\*

2) تأمل الرسوم التقنية التالية و أعدد نوعها .



3) أعرّف المدونة.

### التمرين الثاني :

1) كم هي عدد المقاسات المستعملة في الرسم التقني ؟

2) أعدد أبعاد المقاس A 0 الطول = ..... العرض = .....

### التمرين الثالث :

1) حدّد نوع السلم:

\* سلم 1 : 10 هو سلم .....

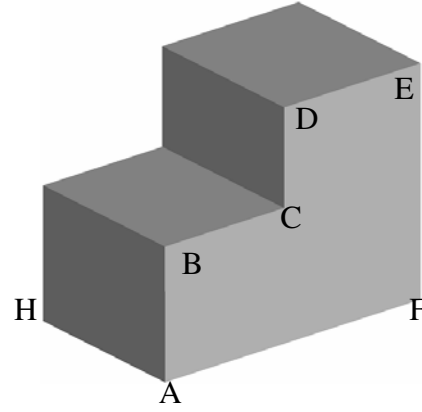
\* سلم 50 : 1 هو سلم .....

college.9raya.tn

2) أتمم الجدول التالي و ذلك برسم الخط .

اسم الخط	رسم الخط
خط متقطع رفيع	
خط مزدوج رفيع	

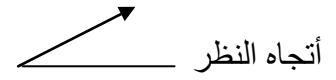
التمرين الرابع : نعتبر القطعة التالي .



$$\begin{array}{ll} 35 \text{ مم} = BC & 30 \text{ مم} = AB \\ 25 \text{ مم} = DE & 30 \text{ مم} = CD \\ 50 \text{ مم} = AH & 60 \text{ مم} = AF \end{array}$$

أنجز الرسم الثلاثي الأبعاد لهذه القطعة بالاعتماد على المعطيات التالية :

الوجه الأمامي : A B C D E F



عامل الاستهراب = 0.7

زاوية الاستهراب =  $45^\circ$

