

التمرين الأول :

1 (أذكر أنواع الرسم التقني.

.....*
.....*

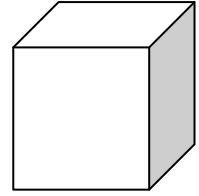
2 (أعرف جدول البيانات.

.....

3 (أذكر إسم و رمز اتجاه النظر بالنسبة للرسم الثلاثي الأبعاد التالي.

اتجاه النظر:

رمز اتجاه النظر:



التمرين الثاني :

1 (المقاس هو الوثيقة التي يقع عليها الرسم التقني.

أتمم أبعاد بقية المقاسات بالجدول التالي: (الوحدة المستعملة هي المليمتر)

الرمز	الأبعاد
A4	210 × 297
A3
A2
A1
A0

2 (حدّد نوع السّلم:

* سلم 1 : 50 هو سلم

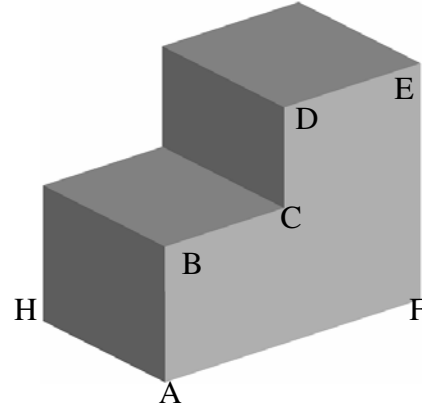
* سلم 10 : 1 هو سلم

3 (أتمم الجدول التالي و ذلك برسم الخط .

اسم الخط	رسم الخط
خط متقطع رقيق	
خط مزدوج رقيق	



التمرين الثالث : لنعتبر القطعة التالي .



$$BC = 40 \text{ مم}$$

$$AB = 30 \text{ مم}$$

$$DE = 30 \text{ مم}$$

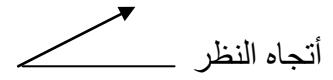
$$CD = 30 \text{ مم}$$

$$AH = 50 \text{ مم}$$

$$AF = 70 \text{ مم}$$


أنجز الرسم الثلاثي الأبعاد لهذه القطعة بالاعتماد على المعطيات التالية :

الوجه الأمامي : A B C D E F



عامل الاستهراب = 0.5

زاوية الاستهراب = 60°



college.9raya.tn