

| | | |
|---------------------------|-----------------------------|------------------------|
| المدرسة الإعدادية بالرقبة | اختبار كتابي عدد 3 | الأستاذ: محمد المسعودي |
| 2011/2010 | المادة: التربية التكنولوجية | اسم ولقب التلميذ:..... |
| الضارب: 1 | التوقيت: 30 دقيقة | القسم: 7 أساسي..... |
| | | العدد المسند: 20/..... |
| | | الرقم:..... |

النشاط 1

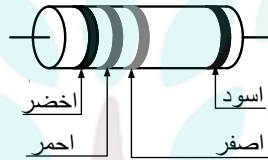
✓ اتمم الجدول التالي

| اسم العنصر | رمز المكون |
|---------------|------------|
| المقاوم | |
| المصباح | |
| المحرك | |

...../3

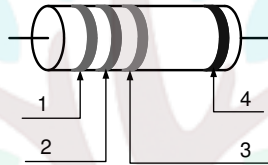
النشاط 2

✓ حدد قيمة مقاومة المقاوم R بالاعتماد على جدول رموز الألوان



و ألوان الأحزمة.

✓ حدد ألوان أحزمة المقاوم



$R1=360000 \Omega \pm 5 \%$

-1
-2
-3
-4

النشاط 3

✓ أنجز على الشبكة رسما ثلاثي الأبعاد للقطعة بالخصائص التالية :

• اتجاه النظر

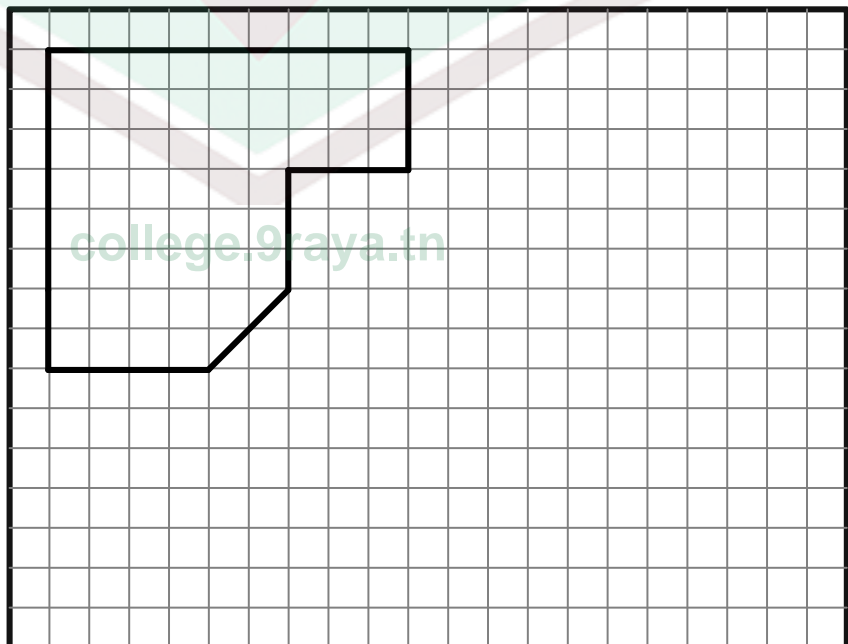
• زاوية الاستهراب 45°

• عامل الاستهراب $K=0.5$

• سمك القطعة = 50مم

طول الخطوط المائلة = =

.../14



عملا موقفا

