

المدرسة الإعدادية بالرقبة	اختبار كتابي عدد 3	الأستاذ: محمد المسعودي
2011/2010	المادة: التربية التكنولوجية	اسم ولقب التلميذ:.....
الضارب: 1	التوقيت: 30 دقيقة	القسم: 7 أساسي.....
		العدد المسند: 20/.....
		الرقم:.....

## النشاط 1

✓ اتمم الجدول التالي

...../4

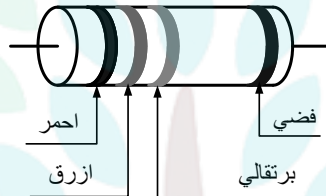
الجهاز	الطاقة التي يتقبلها الجهاز	الطاقة التي يوفرها الجهاز
المذياع		
المحرك		
الصمام المشع		
سخان كهربائي		

...../3

## النشاط 2

✓ حدد قيمة مقاومة المقاوم R بالاعتماد على جدول رموز الألوان

و ألوان الأحزمة.

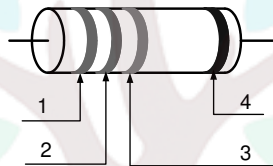


R=.....

✓ حدد ألوان أحزمة المقاوم

R1=7500  $\Omega$   $\pm$  5 %

اللون	الحزام الأول	الحزام الثاني	الحزام الثالث	الحزام الرابع
أسود	0	0	1	$\pm 20\%$
بنّي	1	1	10	$\pm 1\%$
أحمر	2	2	100	$\pm 2\%$
برتقالي	3	3	1000	
أصفر	4	4	10000	
أخضر	5	5	100000	
أزرق	6	6	1000000	
بنفسجي	7	7		
ذهبي			0,1	$\pm 5\%$
فضي			0,01	$\pm 10\%$



لون الحزام 1.....  
لون الحزام 2.....  
لون الحزام 3.....  
لون الحزام 4.....

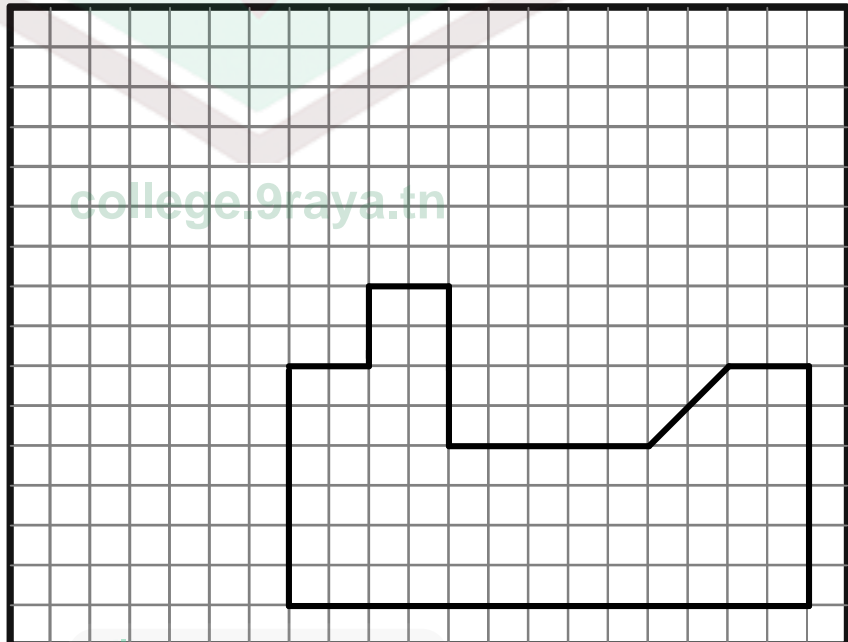
## النشاط 3

✓ أنجز على الشبكة رسما ثلاثي الأبعاد للقطعة بالخصائص التالية :

- اتجاه النظر
- زاوية الاستهراب  $60^\circ$
- عامل الاستهراب K=0.5
- سمك القطعة = 80 مم

طول الخطوط المائلة=.....=.....

.../13



عملا موفقا



college.9raya.tn